

ГЕОГРАФИЯ

САВОЛҲО БО ИНТИХОБИ ЯК ҶАВОБИ ДУРУСТ

1. Нуқтаи пастарини пастии Турон кадом аст?
Ҷавоб: Қароғиёх 1 хол
2. Ҳудуди Ҷумҳурии Тоҷикистон чанд фоизи масоҳати ҷумҳуриҳои Осиёи Миёнаро ташкил медиҳад?
Ҷавоб: 11 1 хол
3. Пойтахти Ҷумҳурии Тоҷикистон шаҳри Душанбе дар ҳудуди кадом ноҳияи табиӣ ҷойгир шудааст?
Ҷавоб: Тоҷикистони Ҷануби Ғарбӣ 1 хол
4. Дар бешазорҳои Тоҷикистон чанд намуди дарахту буттаҳо мерӯяд?
Ҷавоб: зиёда аз 200 1 хол
5. Корхонаҳои сикли истеҳсолии газоэнергохимиявии Тоҷикистон кадом намуди маҳсулотро истеҳсол менамоянд?
Ҷавоб: нуриҳои азотӣ 1 хол
6. Дар ҳудуди ноҳияи иқтисодии Вахш ҳарорати миёнаи тобистон ба чанд дараҷа баробар аст?
Ҷавоб: +30°C 1 хол
7. Агар шахс рӯ ба самти офтоббаро истода бошад, кадом тарафи вай ҷануб аст?
Ҷавоб: рост 1 хол
8. Аз рӯи бузургии масоҳат кадом давлатҳо ба “даҳгонаи аввалин” дохил мешаванд?
Ҷавоб: Австралия ва Қазоқистон 1 хол
9. Кадом давлатҳо дар соҳилҳои уқёнуси Атлантика ҷойгир шудаанд?
Ҷавоб: Мавритания, Гайана ва Ямайка 1 хол
10. Шумораи аҳолии кадом кишвар бештар аст?
Ҷавоб: Афғонистон 1 хол
11. Кадом олими тоҷик соли 1895 глобус сохтааст?
Ҷавоб: Ҳоҷӣ Юсуф 1 хол

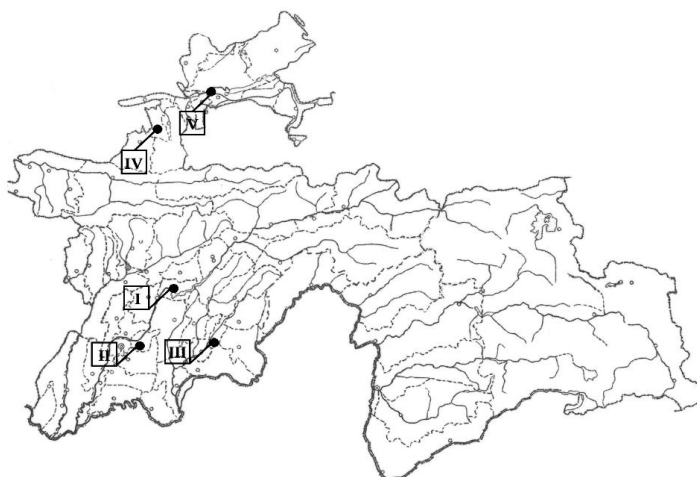
12. Кадом намуди ҷинсҳои кӯҳӣ аз ҷиҳати пайдоиш ба се гурӯҳ ҷудо мешаванд?
Ҷавоб: таҳшинӣ 1 хол
13. 1 сантиметри нақшаи миқёси 1:2 500 дошта дар маҳал ба чанд метр баробар аст?
Ҷавоб: 25 м 1 хол
14. Дар стансияҳои метеорологӣ фишори атмосфериро бо кадом асбоб чен мекунанд?
Ҷавоб: барометр 1 хол
15. Ҷазираҳои Бермуд дар наздикии кадом баҳр ҷойгир шудаанд?
Ҷавоб: Саргасс 1 хол
16. Чуқурии кадом кӯл камтар аст?
Ҷавоб: Чад 1 хол
17. Растании ҳавзаи Амазонка, ки диаметри баргҳои шинокунандааш 2 метр аст, чӣ ном дорад?
Ҷавоб: виктория-регия 1 хол
18. Кадом дарё ба ҳавзаи уқёнуси Ором ҷорӣ мешавад?
Ҷавоб: Амур 1 хол
19. Биёбони Намиб дар кадом минтақаи иқлимии Африқо воқеъ аст?
Ҷавоб: тропикӣ 1 хол
20. Ғори калонтарини дунё Филит Мамон дар кадом материк ҷойгир шудааст?
Ҷавоб: Амрикои Шимолӣ 1 хол

САВОЛУ МАСЪАЛАҲО БО МУАЙЯН КАРДАНИ МУВОФИҚАТ

21. Мувофиқати кони сарвати зерзаминиро бо мавқеи ҷойгиршавиаш дар ҳудуди ноҳияи иқтисодии Тоҷикистон муайян намоед:

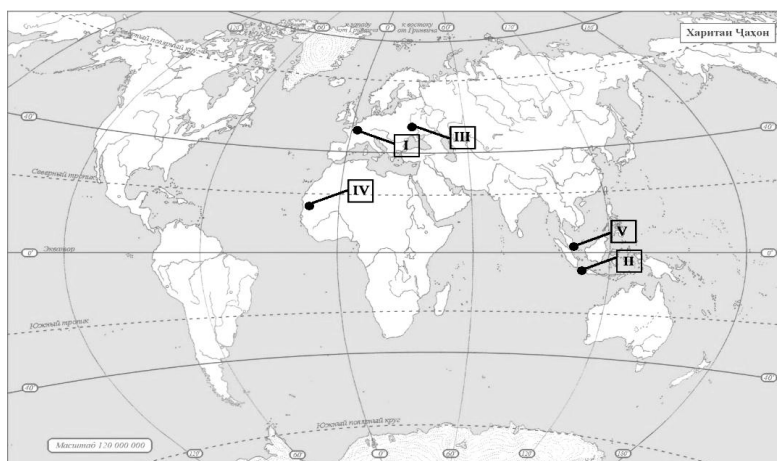
Ҷавоб: Бештентак	→	Кӯлоб	1 ҳол
Назарайлоқ	→	Рашт	1 ҳол
Шӯроб	→	Суғд	1 ҳол
Қизилтумшук	→	Вахш	1 ҳол

22. Мувофиқати шаҳри Тоҷикистон ва рақами дар харита ишорашударо муайян намоед:



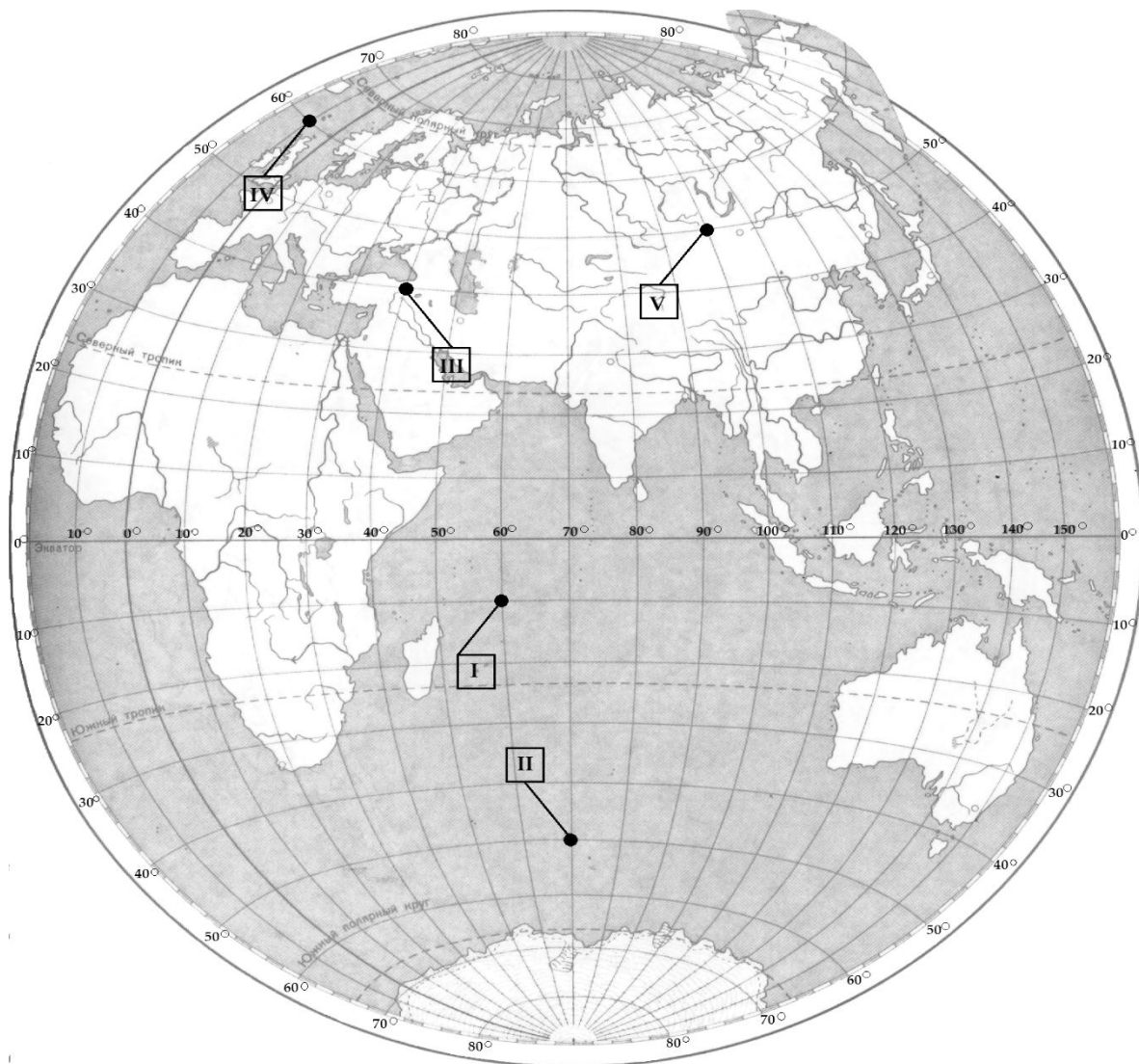
Ҷавоб: Истаравшан	→	IV	1 ҳол
Хуҷанд	→	V	1 ҳол
Кӯлоб	→	III	1 ҳол
Сарбанд	→	II	1 ҳол

23. Мувофиқати давлат ва рақами дар харита ишорашударо муайян намоед:



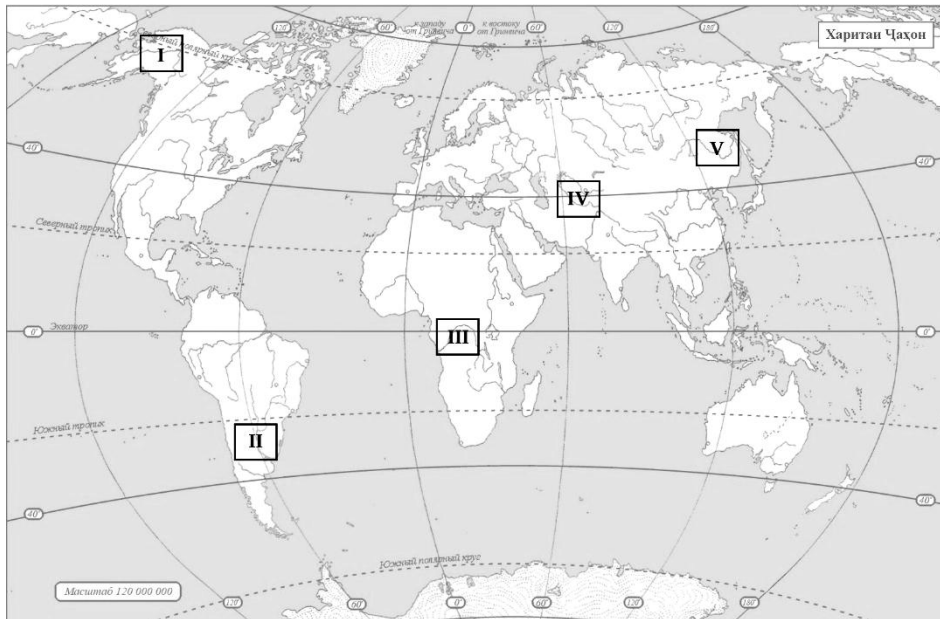
Ҷавоб: Малайзия	→	V	1 ҳол
Украина	→	III	1 ҳол
Фаронса	→	I	1 ҳол
Индонезия	→	II	1 ҳол

24. Мувофиқати координатаи географӣ ва рақами дар харита ишорашударо муайян намоед:



- | | | |
|--------------------------------------|------|--------------|
| Ҷавоб: 50° а. ҷ. ва 70° т. ш. | → II | 1 хол |
| 60° а. ш. ва 10° т. ғ. | → IV | 1 хол |
| 10° а. ҷ. ва 60° т. ш. | → I | 1 хол |
| 50° а. ш. ва 100° т. ш. | → V | 1 хол |

25. Мувофиқати дарё ва рақами дар харита ишорашударо муайян намоед:



Ҷавоб: Юкон	→	I	1 хол
Амур	→	V	1 хол
Парана	→	II	1 хол
Конго	→	III	1 хол