

ГЕОГРАФИЯ

ЗАДАНИЯ С ВЫБОРОМ ОДНОГО ПРАВИЛЬНОГО ОТВЕТА

1. Самая низкая точка Туранской низменности.

Ответ: Карагие 1 очко
2. Сколько процентов территории государств Средней Азии составляет площадь Республики Таджикистан?

Ответ: 11 1 очко
3. На территории какого природного района расположена столица Республики Таджикистан – город Душанбе?

Ответ: Юго-Западного Таджикистана 1 очко
4. Сколько видов деревьев и кустарников растёт в лесах Таджикистана?

Ответ: более 200 1 очко
5. Какую продукцию производят предприятия газотермохимического цикла Таджикистана?

Ответ: азотные удобрения 1 очко
6. Средняя температура лета на территории Вахшского экономического района равна

Ответ: +30°C 1 очко
7. Где находится юг, если человек стоит лицом к востоку солнца?

Ответ: справа 1 очко
8. Какие государства входят в «первую десятку» по величине площади?

Ответ: Австралия и Казахстан 1 очко
9. Какие государства расположены на побережье Атлантического океана?

Ответ: Мавритания, Гайана и Ямайка 1 очко
10. Численность населения какого государства больше?

Ответ: Афганистана 1 очко
11. Какой таджикский учёный в 1895 году создал глобус?

Ответ: Ходжи Юсуф 1 очко
12. Какой вид горных пород разделяется на три группы по происхождению?

Ответ: осадочный 1 очко

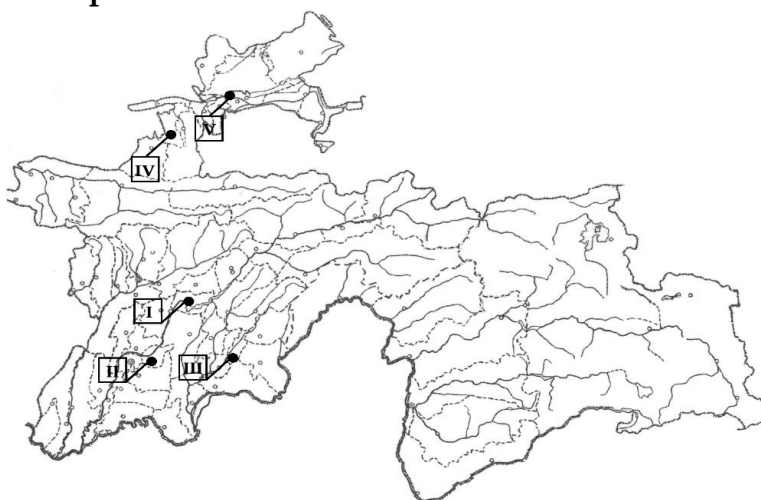
13. Чему равен 1 сантиметр в плане масштабом 1:2 500 на местности?
Ответ: 25 м 1 очко
14. Каким прибором измеряют атмосферное давление на метеорологических станциях?
Ответ: барометром 1 очко
15. Вблизи какого моря расположены Бермудские острова?
Ответ: Саргасова 1 очко
16. Глубина какого озера меньше?
Ответ: Чад 1 очко
17. Как называется растение с плавающими листьями диаметром до 2 м, обитающее в бассейне Амазонки?
Ответ: виктория-регия 1 очко
18. Какая река впадает в бассейн Тихого океана?
Ответ: Амур 1 очко
19. В каком климатическом поясе Африки расположена пустыня Намиб?
Ответ: в тропическом 1 очко
20. На каком материке расположена самая большая пещера мира Филлит Мамон?
Ответ: Северная Америка 1 очко

ЗАДАНИЯ НА УСТАНОВЛЕНИЕ СООТВЕТСТВИЯ

21. Соотнести месторождение и экономический район Таджикистана, где оно расположено:

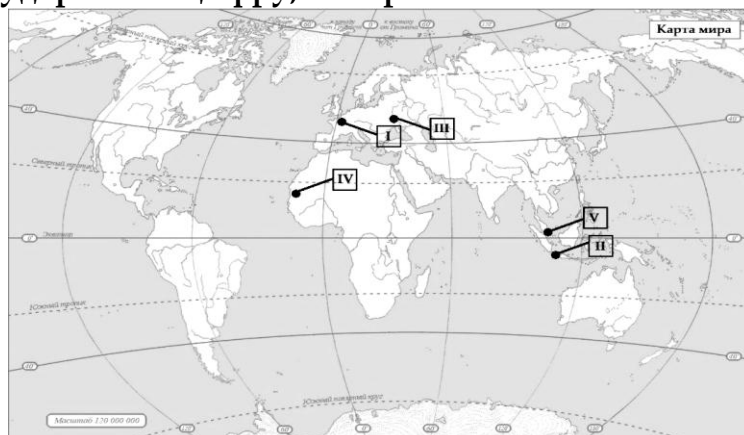
Ответ:	Бештентак	→	Куляб	1 очко
	Назарайлок	→	Рашт	1 очко
	Шураб	→	Соғд	1 очко
	Кизилтумшук	→	Вахш	1 очко

22. Установить соответствие между городом Таджикистана и цифрой, которой он обозначен на карте:



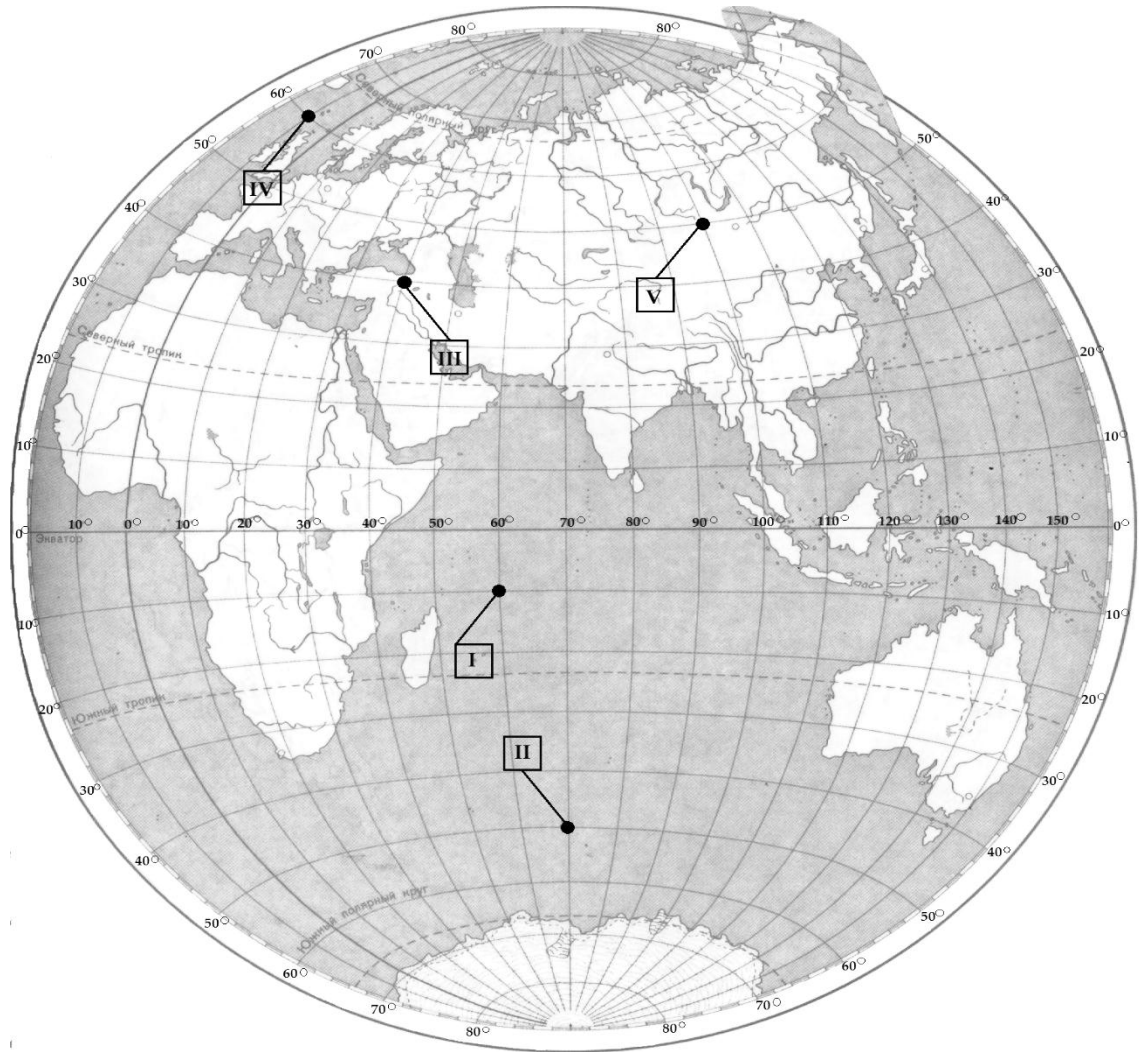
Ответ:	Истаравшан	→	IV	1 очко
	Худжанд	→	V	1 очко
	Куляб	→	III	1 очко
	Сарбанд	→	II	1 очко

23. Соотнести государство и цифру, которой оно обозначено на карте:



Ответ:	Малайзия	→	V	1 очко
	Украина	→	III	1 очко
	Франция	→	I	1 очко
	Индонезия	→	II	1 очко

24. Установить соответствие между географической координатой и цифрой, которой она указана на карте:



Ответ: 50° ю. ш. и 70° в. д.

→ II

1 очко

60° с. ш. и 10° з. д.

→ IV

1 очко

10° ю. ш. и 60° в. д.

→ I

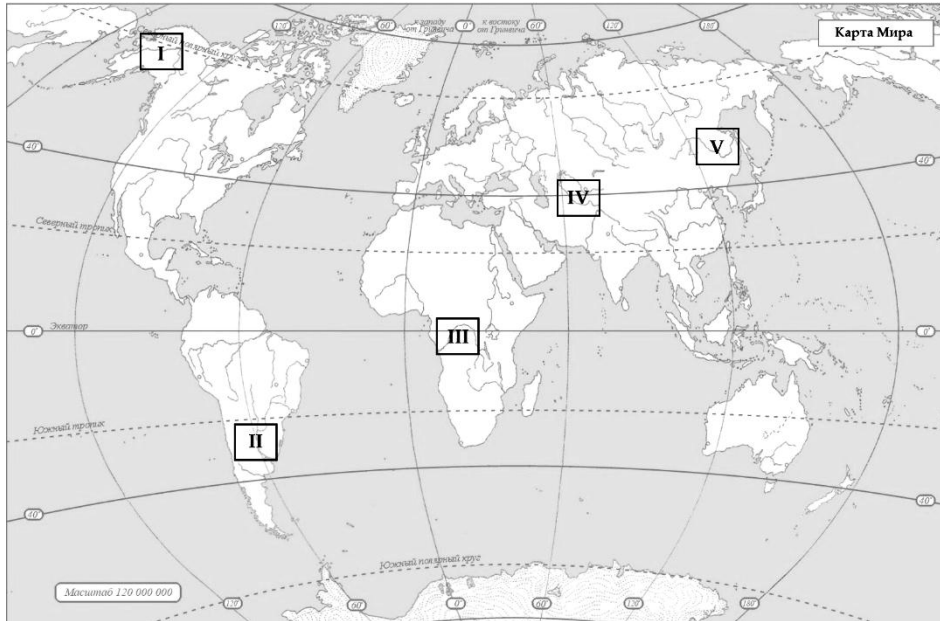
1 очко

50° с. ш. и 100° в. д.

→ V

1 очко

25. Установить соответствие между рекой и цифрой, которой она обозначена на карте:



- | | | | | |
|---------------|--------|---|-----|--------|
| Ответ: | Юкон | → | I | 1 очко |
| | Амур | → | V | 1 очко |
| | Парана | → | II | 1 очко |
| | Конго | → | III | 1 очко |